

Безопасност на движението по пътищата

Тестова карта

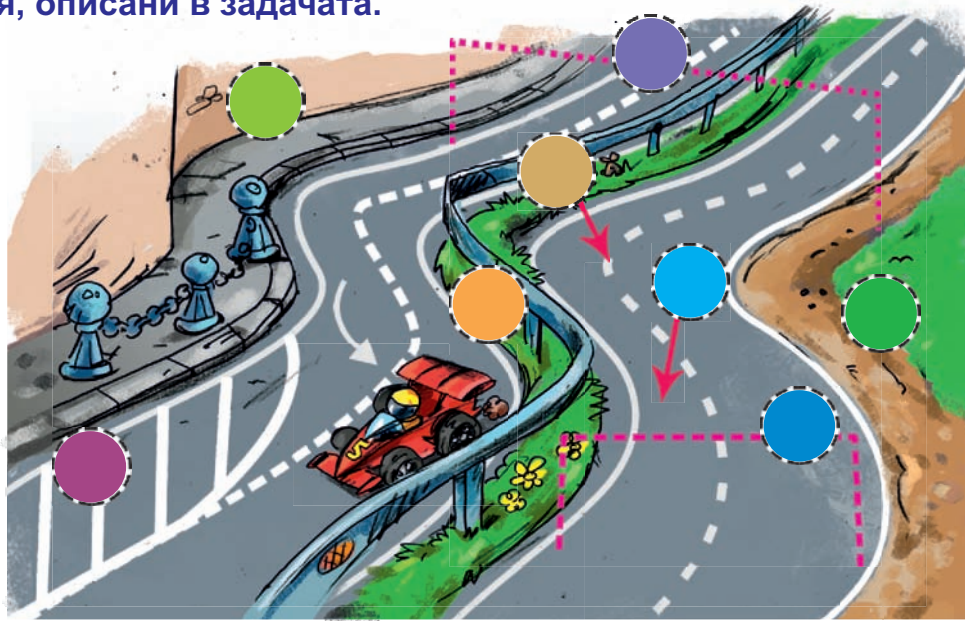
I срок, III клас, 20.../20... учебна година

(наименование на учебното заведение)

Атестация по безопасност на движението

на.....
..... ученик/чка от клас.

1. Напиши в съответното кръгче номера на всеки от елементите на пътя, описани в задачата.



1. Платното за движение е общата ширина на всички ленти.
2. Тротоарът е предназначен само за движение на пешеходци.
3. Разделителната ивица разделя пътя на отделни платна за движение.

2. За какво предстоящо действие сигнализират велосипедистите?



.....
.....

.....
.....

.....
.....

3. Свържи изобразените предмети с наименованието и предназначението им, свързано със защитата и безопасността на велосипедистите.



Светлоотразители

Отразяват светлина и правят велосипедиста видим за водачите.



Каска

Предпазва главата от удар при евентуално падане.

4. Определете чрез свързване кои твърдения са правила за велосипедисти.



Пресичането зад паркирани превозни средства е опасно.

Сигнал за завой или спиране се подава с ръка.

Пешеходната пътека се пресича пеша, с бутане на колелото.

Не се пресича по диагонал през кръстовище и през участък от пътя в ремонт.

При липса на специална алея движението се извършва по платното възможно най-вдясно.

Трябва да се поддържат в изправност спирачки, светлоотразители, звънец и фар.



5. Свържи верния отговор. Кой къде може да управлява велосипед?

до 8-годишен

до 12-годишен

над 12-годишен



по велоалеята без придружител



по алеята в парка с придружител



по банкета без придружител



по тротоара с придружител

Ученикът/чката.....

от 3. клас завършва успешно обучението по безопасност на движението:

- при първото попълване на тестовата карта
- след корекция на допуснатите грешки

(подчертава се вярното)

Дата

гр./с.

Проверяващ:

(име и фамилия)

Безопасност на движението по пътищата

Тестова карта

II срок, III клас, 20.../20... учебна година

(наименование на учебното заведение)

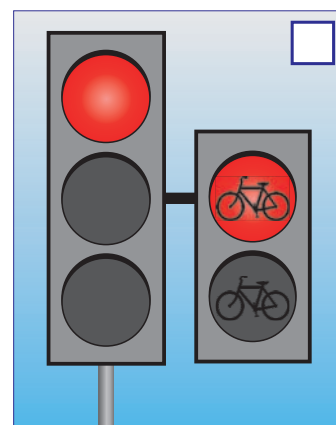
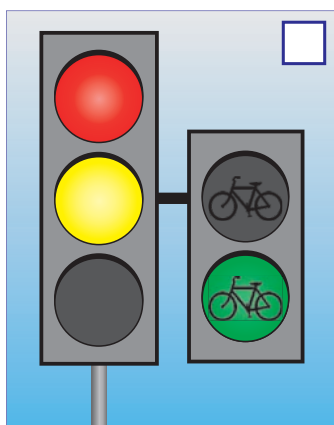
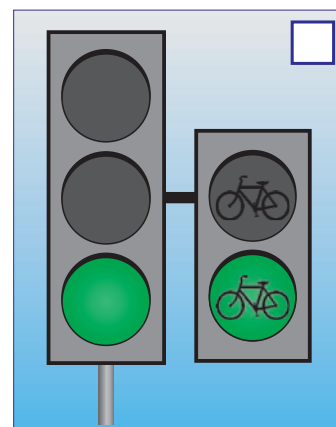
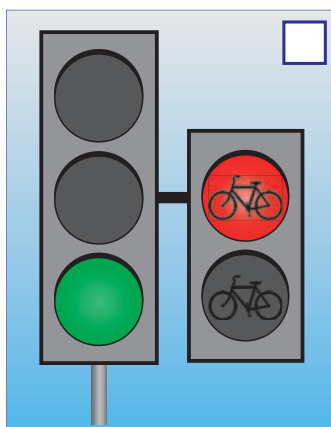
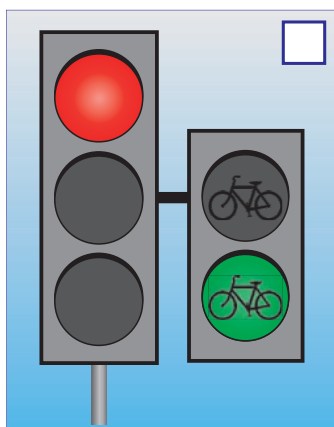
Атестация по безопасност на движението

на.....
..... ученик/чка от клас.

1. Прочети внимателно текстовете и оцвети всеки кръг със съответния цвят на светофара.



2. Отбележи в квадратчето на всяка картинка къде светофарът дава право на велосипедиста да премине безопасно.




3. Попълни поне едно опасно или безопасно място във всяка графа на таблицата.

	Опасни	Безопасни
Места за пресичане		
На тротоара		
На спирка		
В лек автомобил		
В обществено превозно средство		

4. Номерирай правилната последователност на действията за безопасно пресичане като пешеходец.

- Оглеждам се вляво.
- Пресичам бързо, но без тичане.
- Избирам подходящо място за пресичане.
- Пак поглеждам наляво.
- Спирам в края на тротоара до бордюра.
- Оглеждам се вдясно.

5. Отбележи пътните знаци, които се отнасят за велосипедисти.



Ученикът/чката.....

от 3. клас завършва успешно обучението по безопасност на движението:

- при първото попълване на тестовата карта
- след корекция на допуснатите грешки

(подчертава се върното)

Дата

гр./с.

Проверяващ:

(име и фамилия)